


Materiale della Prof.ssa Monalda Paciotti

QUESTIONARIO GEOMETRIA

SCRIVI IL NOME DELLE SEGUENTI FIGURE:

1) -----

2) A ----- B

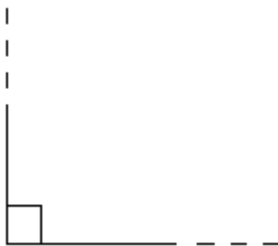
3) 

—

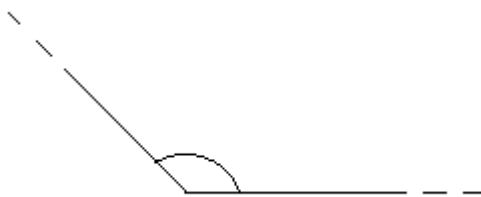
UN ANGOLO **MINORE** DI 90° SI CHIAMA -----

UN ANGOLO **MAGGIORE** DI 90° SI CHIAMA -----

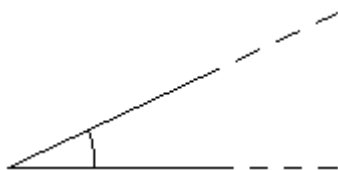
UN ANGOLO **UGUALE A** 90° SI CHIAMA -----



QUESTO E' UN ANGOLO -----



QUESTO E' UN ANGOLO -----

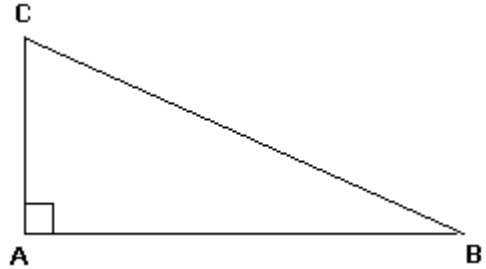


QUESTO E' UN ANGOLO -----

Materiale della Prof.ssa Monalda Paciotti



QUESTO E' UN ANGOLO _____

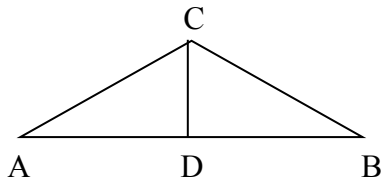


QUESTO TRIANGOLO E' _____

DUE POLIGONI CON L'AREA UGUALE SI CHIAMANO _____

DUE POLIGONI CON LA FORMA UGUALE SI CHIAMANO _____

QUESTA FIGURA GEOMETRICA E' UN _____

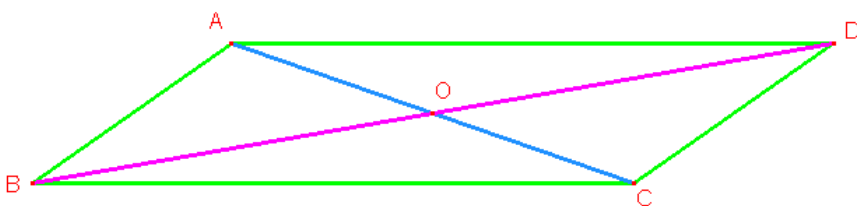


A, B, C SI CHIAMANO _____

BC SI CHIAMA _____

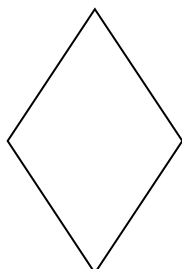
CD SI CHIAMA _____

QUESTO QUADRILATERO SI CHIAMA _____



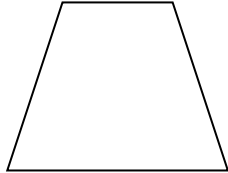
BD e AC si chiamano

QUESTO QUADRILATERO SI CHIAMA _____



Materiale della Prof.ssa Monalda Paciotti

QUESTO QUADRILATERO SI CHIAMA _____



QUESTO QUADRILATERO SI CHIAMA _____

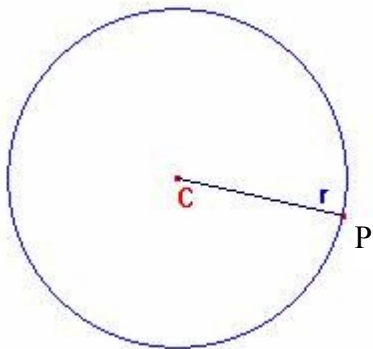


Il _____ di questa figura si trova lato \cdot 4

L' _____ di questa figura si trova lato²

NELLA SEGUENTE FIGURA IL PUNTO C si chiama _____

IL SEGMENTO CP si chiama _____



Materiale della Prof.ssa Monalda Paciotti

L' area del _____ si trova πr^2

La lunghezza della _____ si trova $2 \pi r$